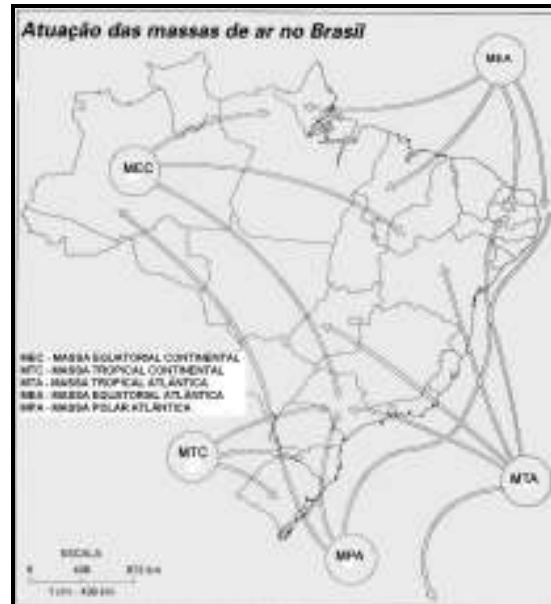


GEOGRAFIA – QUESTÕES DE 21 A 30

21. Observe o mapa abaixo, que apresenta as principais massas de ar que influenciam o clima no território brasileiro.



(VESENTINI, J. W. **Brasil Sociedade & Espaço**. Caderno de atividades. São Paulo: Ática, 2001. p. 71. Adaptado.)

De acordo com o mapa e os conhecimentos sobre as massas de ar no Brasil, assinale a afirmativa CORRETA:

- a) A MPA tem sua origem no sul do continente, atua no território brasileiro durante o período de inverno e se caracteriza por ser fria e úmida.
- b) A MTA tem sua formação no oceano Atlântico e atua em grande parte do território brasileiro durante os meses de primavera e outono.
- c) A MEC tem sua origem na porção ocidental da Amazônia e atua em grande parte do território brasileiro durante os meses de inverno.
- d) A MTC tem sua formação na depressão do Chaco, atua na parte sul do território brasileiro e se caracteriza por ser fria e úmida.

22. O Território Brasileiro foi dividido em grandes domínios morfoclimáticos pelo geógrafo Aziz Ab'Saber (1969). Essa divisão considera aspectos como clima, relevo, geologia, recursos hídricos e vegetação.

Sobre o uso e a ocupação dos grandes domínios morfoclimáticos brasileiros, é CORRETO afirmar que:

- a) no domínio da Caatinga são frequentes os *inselbergs* e sua ocupação tem se realizado pela prática da agricultura de exportação.
- b) no domínio do Cerrado, os solos profundos auxiliam no desenvolvimento de atividades agrícolas nas pequenas propriedades familiares.
- c) no domínio Amazônico, a ocupação intensiva, com altas taxas de desmatamento, tem ocasionado modificações nos ciclos biogeoquímicos.
- d) no domínio das Araucárias são encontrados solos férteis e sua ocupação preservou sua cobertura florestal.

23. Leia as afirmativas abaixo, que se referem aos elementos de um mapa.

- I. As curvas de nível são linhas isométricas, isto é, linhas que unem pontos de mesma altitude representados numa carta ou mapa.
- II. A escala numérica fornece a relação entre os comprimentos de uma linha no mapa e o correspondente no terreno.
- III. A projeção azimutal é equivalente, pois os paralelos e meridianos representam com precisão as distâncias em qualquer direção a partir da periferia do mapa.
- IV. Em um mapa de escala 1 : 100.000, 8 cm equivalem a 80 m.

Está CORRETO o que se afirma apenas em:

- a) III e IV.
- b) II e III.
- c) I e II.
- d) I e IV.

24. Assinale a afirmativa CORRETA referente aos agentes de formação do relevo:

- a) As dunas são montes de areia estáveis, formando-se nas zonas superiores e secas da praia, onde o vento, mesmo de pouca intensidade, pode deslocar os grãos de areia.
- b) As restingas são faixas arenosas que se alongam e são depositadas paralelamente ao litoral, tendo como ponto de apoio os afloramentos rochosos.
- c) As praias são formadas exclusivamente pela deposição de material originário da dinâmica das correntes marinhas.
- d) As falésias são escarpas horizontais formadas no encontro do continente com o oceano a partir do solapamento de sua base pela ação das águas oceânicas.

25. Leia o trecho abaixo:

À medida que o espaço se encolhe para se tornar uma aldeia “global” de telecomunicações e uma “espaçonave planetária” de interdependências econômicas e ecológicas – para usar apenas duas imagens familiares e cotidianas – e à medida em que os horizontes temporais se encurtam até ao ponto em que o presente é tudo o que existe, temos que aprender a lidar com um sentimento avassalador de compressão de nossos mundos espaciais e temporais.

(HARVEY, D. **A Condição Pós-Moderna**. São Paulo: Loyola, 1989. p. 240.)

De acordo com o trecho acima e com os conhecimentos sobre o fenômeno da globalização, assinale a afirmativa INCORRETA:

- a) O processo econômico que ocorre em um determinado lugar tem grande influência sobre outras localidades situadas a uma grande distância.
- b) A partir da segunda metade do século XX, vem ocorrendo uma profunda transformação nas antigas identidades nacionais.
- c) O conceito de Estado mínimo legitimou as principais transformações na economia mundial, como a diminuição da intervenção do Estado no mercado.
- d) A ascensão e a influência das transnacionais sobre as nações emergentes provocaram o fim das fronteiras dos Estados nacionais.

26. Leia o texto abaixo:

A abordagem geográfica do real enfrenta o problema básico do tamanho, que varia do espaço local ao planetário. Esta variação de tamanhos e de problemas não é prerrogativa da geografia. [...] Recentemente, as descobertas da microfísica e da microbiologia colocaram em evidência que na relação entre fenômeno e tamanho não se transferem leis de um tamanho a outro sem problemas, e isto é válido para qualquer disciplina.

(CASTRO, I. E. de; GOMES, P. C. C.; CORRÊA, R. L. (Org.). **Geografia: conceitos e temas**. Rio de Janeiro: Bertrand Brasil, 1995. p. 288.)

O texto acima refere-se ao conceito de:

- a) representação.
- b) escala.
- c) mapa.
- d) espaço.

27. A metropolização faz parte do fenômeno da urbanização brasileira, que remete aos ajustes sociais (mobilidade demográfica) e à dinâmica da economia, expressando quatro tendências significativas.

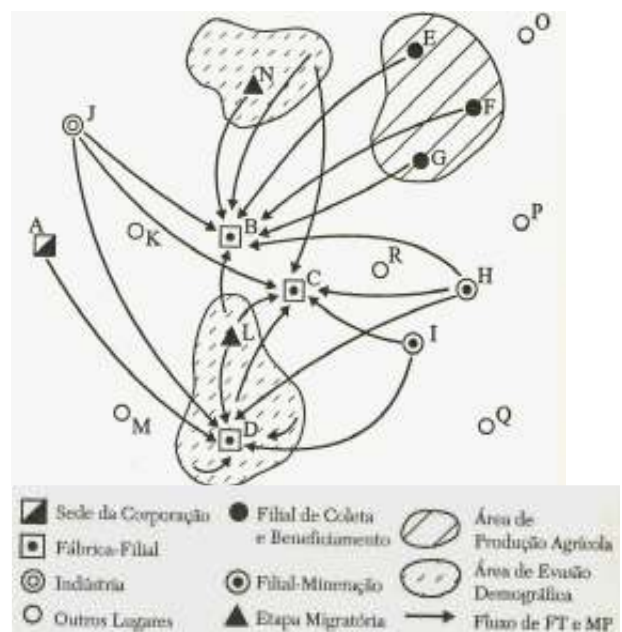
Dentre as afirmativas abaixo assinale aquela que caracteriza CORRETAMENTE uma dessas tendências:

- a) Os municípios-núcleos das velhas metrópoles apresentam crescimento populacional maior do que vários municípios de sua periferia.
- b) As metrópoles se retraem em razão da mobilidade demográfica dos municípios da periferia para os municípios-núcleos.
- c) Os municípios periféricos se expandem e há inserção de outros municípios na aglomeração para além dos limites anteriormente estabelecidos.
- d) As mudanças dos municípios-núcleos ocorreram em função da mobilidade demográfica no interior dos estados.

28. Com base no esquema ao lado sobre o ciclo de circulação da força de trabalho e meios de produção, assinale a afirmativa CORRETA:

- a) A espacialidade do ciclo de reprodução do capital é mais simples do que a que foi apresentada no esquema.
- b) Os diversos lugares representados no esquema participam igualmente do ciclo de reprodução do capital de uma corporação.
- c) O centro C participa do ciclo de reprodução do capital através da coleta e do beneficiamento de produtos agrícolas e atua como centro varejista e bancário.
- d) O centro A é responsável pela gestão do território e pela concepção, planejamento e controle do ciclo de reprodução do capital.

Circulação da força de trabalho e meios de produção



(CASTRO, I. E. de; GOMES, P. C. C.; CORRÊA, R. L. (Org.). **Explorações Geográficas**. Rio de Janeiro: Bertrand Brasil, 1997. p. 288.)

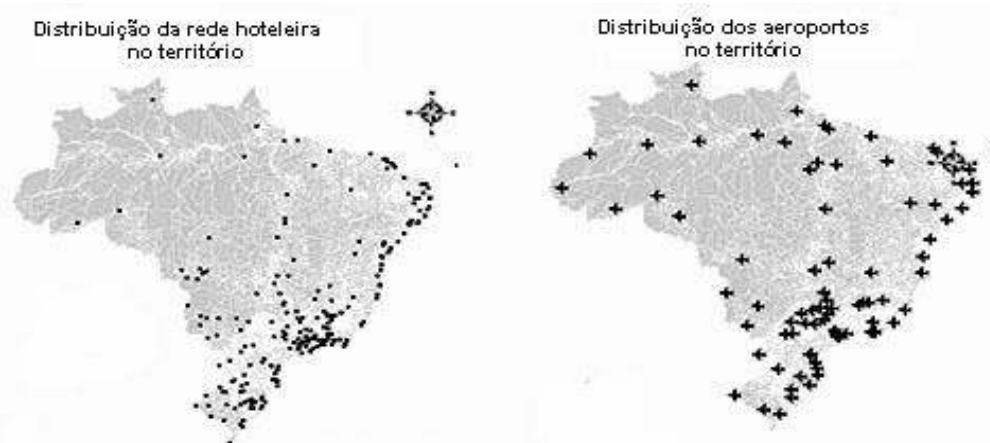
29. A diferença econômica internacional, principalmente entre os países ricos e os pobres, é acentuada. Sobre as consequências dessa diferença, considere as afirmativas abaixo:

- I. O fenômeno urbano mundial, caracterizado pelo intenso crescimento, se acentuou a partir, principalmente, da Segunda Guerra Mundial.
- II. A expectativa de vida e o percentual de pessoas com mais de 65 anos em países como Japão, Suíça e Estados Unidos aumentaram.
- III. Com algumas exceções, o Índice de Desenvolvimento Humano (IDH), nos países localizados no sul do trópico de Câncer, é elevado ou médio e, nos países do norte, é baixo ou médio.
- IV. A Arábia Saudita, Rússia e Venezuela, países que se caracterizam por serem exportadores de petróleo, apresentam o IDH elevado.

Estão CORRETAS apenas as afirmativas:

- a) I, II e IV.
- b) I, III e IV.
- c) I, II e III.
- d) II, III e IV.

30. Observe os mapas abaixo:



(SILVEIRA, M.A.S. Turismo: Identificação de Espacialidades com base na análise da distribuição da rede hoteleira e transporte aéreo no espaço brasileiro. ENCONTRO NACIONAL DA ANPEGE, 2007. CD ROM.)

Em relação à infraestrutura turística, representada nos mapas, assinale a afirmativa CORRETA:

- a) Os mapas indicam que a infraestrutura turística encontra-se distribuída de modo equilibrado no território brasileiro.
- b) Os mapas indicam uma descentralização das atividades turísticas com uma concentração na região Centro-Sul.
- c) A desigualdade regional em termos de infraestrutura aero-hoteleira é decorrente dos impactos advindos das atividades turísticas em cada região.
- d) Os problemas socioambientais estão concentrados em áreas que recebem o maior fluxo turístico.